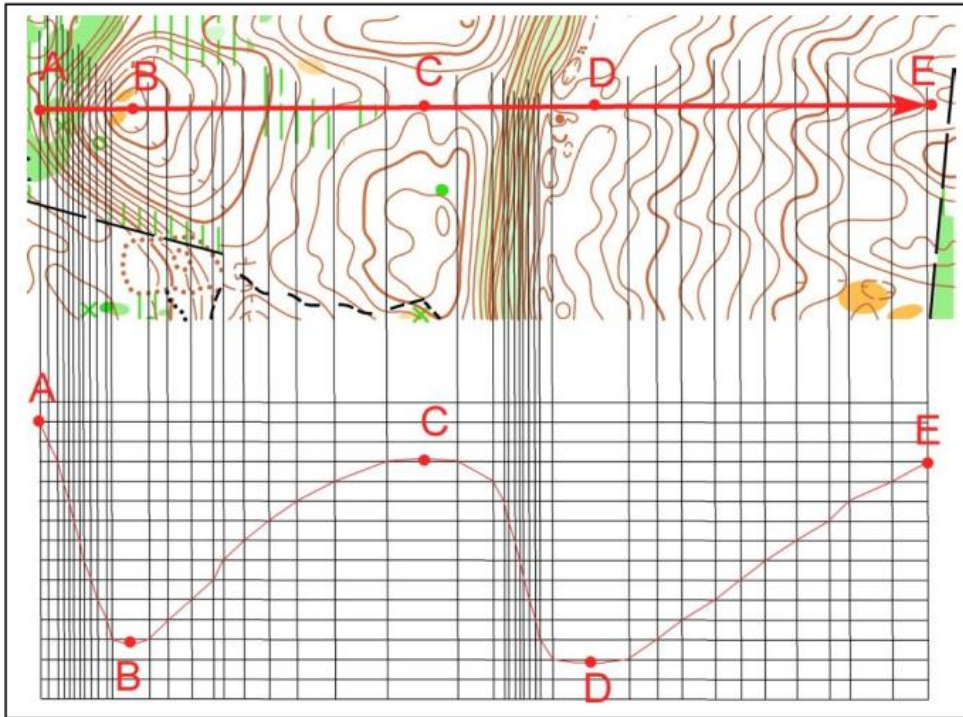


Correction

1) En t'aidant du quadrillage reproduit le profil ou la coupe du terrain indiqué par la flèche rouge. Réponds ensuite aux questions posées en cochant la bonne case



- A est : - plus haut
 - plus bas
 - même hauteur que E
- D est : - plus haut
 - plus bas
 - même hauteur que B
- E est : - plus haut
 - plus bas
 - même hauteur que C
- C est : - plus haut
 - plus bas
 - même hauteur que A

2) Depuis le point de départ, en suivant l'itinéraire tracé sur la carte ci-dessous, tu passes à côté de différents symboles indiqués par des flèches, numérotés de 1 à 8, et qui sont situés soit à droite soit à gauche du chemin. Suivant que ces symboles se situent à gauche ou à droite du chemin que tu suis, classe les dans la bonne colonne et donne leur signification.

	SIGNIFICATION SYMBOLES A GAUCHE DU CHEMIN	SIGNIFICATION SYMBOLES A DROITE DU CHEMIN
	Puits Ruine Mare - Etang Clairière Clôture infranchissable Limite de végétation	Petite tour Borne

3) Donne en texte, les définitions de ces postes de contrôle situés au centre du cercle.

	BORNE
	MUR - ANGLE EST

4) Observe bien les photos et essaie de retrouver l'endroit où elles ont été prises par le photographe. Entoure la lettre correspondant à la position du photographe.



Photo 1 : C

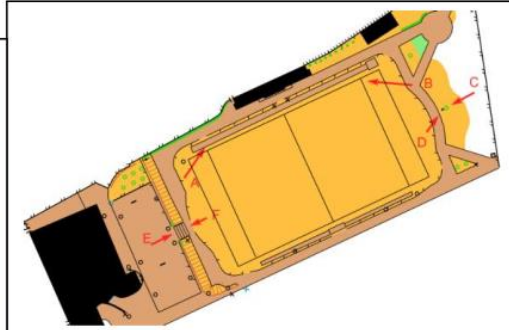


Photo 2 = F



Photo 3 = B

5) Traduis en texte, les définitions des postes 2 et 3 qui figurent en symbole I.O.F dans la grille ci-dessous.

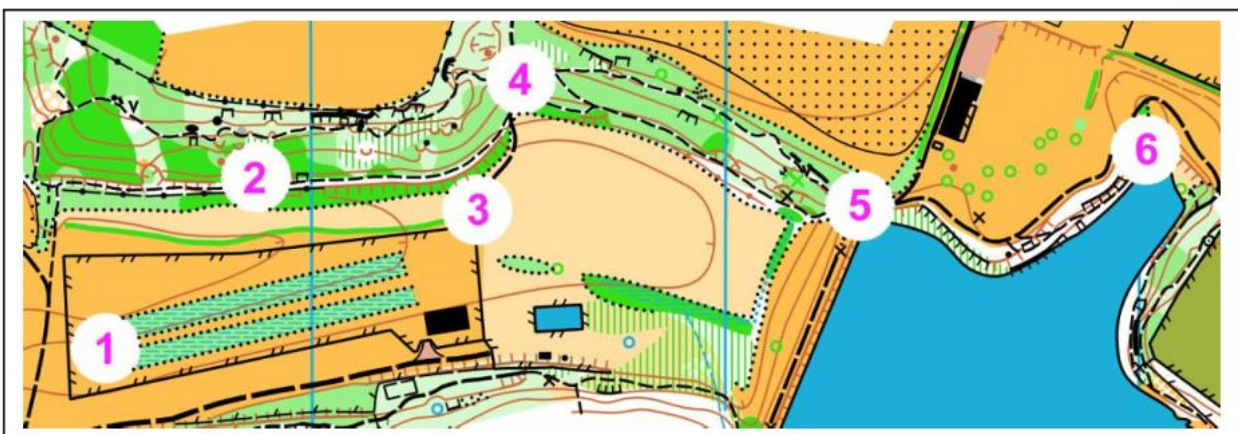
1 : Colline – pied SUD

2 : Bosquet le plus au Sud - Côté Nord Ouest

3 : Falaise la plus à l'Ouest

1	34		○			♀	
2	41	↓	♁			○	
3	42	←	≡				

6) Replace les pièces du puzzle à la bonne place en reportant le chiffre à côté de la lettre



A = 2



B = 6



C = 1



D = 3



E = 4



F = 5